

**Часть А**

К каждому заданию части А дано четыре ответа, из которых только один верный. При выполнении заданий части А в бланке ответов под номером выполняемого вами задания (А1 – А15) поставьте цифру в клеточку, которая соответствует цифре выбранного вами ответа.

**А1. Наименьшую площадь имеет материк:**

- 1) Северная Америка      2) Австралия      3) Африка      4) Евразия

**А2. Глубину Средиземного моря определяют по карте:**

- 1) экономической      2) политической      3) климатической      4) физической

**А3. Какая из обозначенных на карте мира точек имеет географические координаты 5° 115° з.д.?**

- 1) А    2) В    3) С    4) D

**А4. Земная кора имеет наименьшую толщину:**

- 1) на Западно-Сибирской равнине  
2) в Гималаях  
3) на дне океана  
4) на Амазонской низменности

**А5. Самая высокая вероятность сильных землетрясений существует на территории:**

- 1) полуострова Камчатка      2) острова Великобритания  
3) Скандинавского полуострова      4) Канадского Арктического архипелага

**А6. Высокая температура и высокая влажность в течение всего года характерны для воздушных масс:**

- 1) арктических    2) умеренных    3) тропических    4) экваториальных

**А7. Постоянно дующие ветры это:**

- 1) муссоны      2) пассаты      3) бриз      4) суховеи

**А8. Климатический пояс, в котором в течение года происходит смена тропических и экваториальных воздушных масс, называется:**

- 1) экваториальным      2) тропическим      3) субтропическим      4) субэкваториальным

**А9. По климатической диаграмме определите, в каком месяце выпадает наименьшее количество осадков:**

- 1) в январе    2) в марте    3) в июле    4) в ноябре

**А10. Тёплым течением является:**

- 1) Сомалийское    2) Гольфстрим    3) Калифорнийское    4) Перуанское

**А11. С запада Северную Америку омывает океан**

- 1) Индийский    2) Тихий    3) Атлантический    4) Северный Ледовитый

**А12. Крайней восточной точкой материка Евразия является мыс:**

- 1) Дежнёва    2) Челюскин    3) Рока    4) Пиай

**А13. В Австралии обитают**

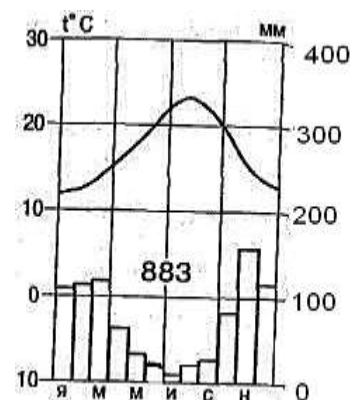
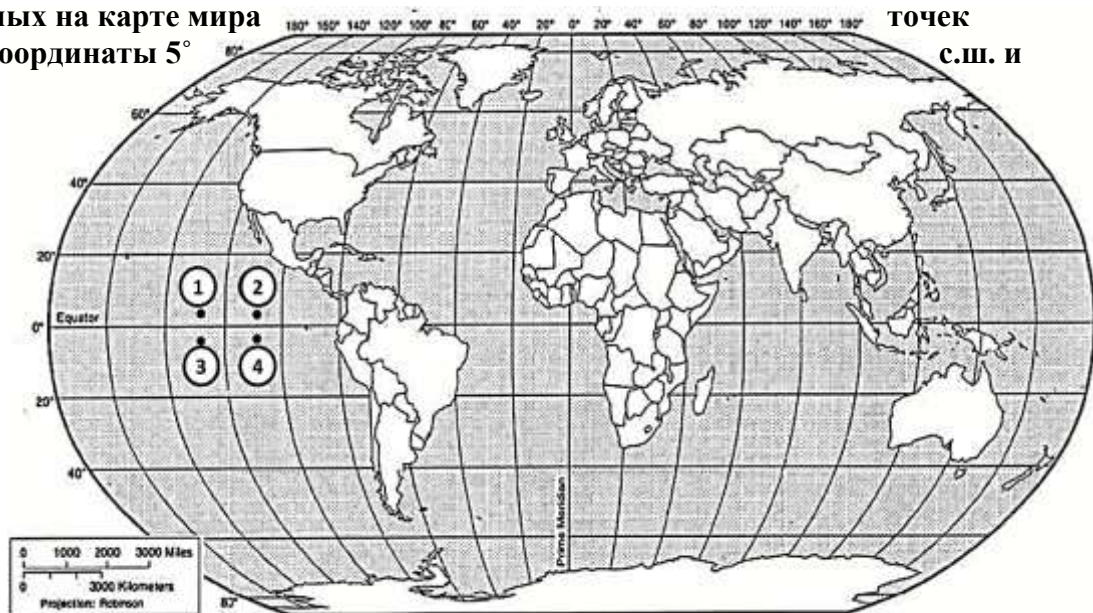
- 1) леопард, горилла, окапи      2) ехидна, утконос, кенгуру  
3) пума, ягуар, анаконда      4) опоссум, овцебык, скунс

**А14. Равнинами Евразии являются:**

- 1) Миссисипская, Восточно-Европейская    2) Восточно-Европейская, Великая Китайская  
3) Великая Китайская, Ла-Платская    4) Ла-Платская, Индо-Гангская

**А15. В Северной Америке мхи, лишайники, кустарнички, карликовые берёзы, олени карлибу – характерные представители природной зоны:**

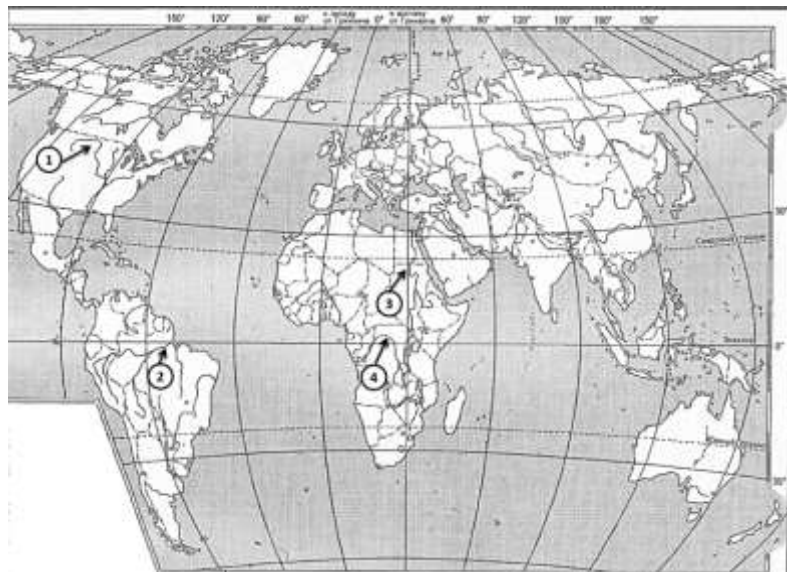
- 1) тундры      2) тайги    3) широколиственных лесов    4) смешанных лесов



**Часть В**

Ответом к заданиям части В является набор цифр, которые следует записать в бланк справа от номера соответствующего задания, начиная с первой клеточки. Каждую цифру пишете в отдельной клеточке.

**В1. Установите какой цифрой (на карте 1) обозначены реки перечисленные ниже**  
**НАЗВАНИЯ РЕК**



- A) Нил
- B) Амазонка
- C) Конго
- D) Миссисипи

**В2. Установите какой цифрой (на карте 2) обозначены объекты перечисленные ниже.**  
**ГЕОГРАФИЧЕСКИЕ ОБЪЕКТЫ**

- A) горы Атлас
- B) Бразильское плоскогорье
- C) Аравийский полуостров
- D) горы Анды

*карта 1*



*карта 2*

**В3. Выберите три верных утверждения.**

- 1) Самый многочисленный народ мира – китайцы.
- 2) Испания является островным государством.
- 3) Большой Барьерный риф протянулся вдоль северо-восточного побережья Австралии.
- 4) Японцы – самый низкорослый народ, живущий в Африке.
- 5) Крупнейшее государство Южной Америки – Бразилия.
- 6) Россия – самая маленькая по площади страна мира.

**Часть С**

**Определите страну по её краткому описанию.**

1. Это древнейшая африканская страна, большая часть населения которой проживает в долине великой реки мира, протекающей по самой крупной пустыне. Запасы нефти, орошаемые земли, рекреационные ресурсы основные богатства этой страны, она обладает также выгодным экономико-географическим положением: выходом к морю, близостью к развитым странам и функционированием на её территории одного из крупнейших каналов мира.

**Определите, о какой природной зоне говорится:**

2. «Характерны глеевые и тундро-глеевые почвы. Мхи, лишайники, карликовые деревья. Характерные представители животного мира: песцы, северные олени, волки, белые совы, овцебык».

### Часть А

Часть А содержит 15 заданий с выбором ответа. К каждому заданию даётся четыре варианта ответа, только один из которых верный. При выполнении заданий этой части в бланке ответов под номером выполняемого вами задания (А1–А15) поставьте цифру в клеточке, которая соответствует цифре выбранного вами ответа.

#### А1. Какой материк Земли самый сухой?

- 1) Евразия      2) Африка      3) Австралия      4) Южная Америка

#### А2. Какие горы расположены на материке Африка:

- 1) Пиренеи, Драконовы, Гималаи;      2) Атлас, Капские, Драконовы;  
3) Альпы, Капские, Анды.      4) Атлас, Карпаты, Кордильеры

#### А3. Относительно устойчивые и выровненные участки земной коры, лежащие в основании современных материков, - это:

- 1) материковые отмели      2) платформы  
3) сейсмические пояса      4) острова

#### А4. Какая из перечисленных территорий расположена в пределах сейсмического пояса?

- 1) Японские острова      2) острова Новая Земля  
3) полуостров Таймыр      4) полуостров Ямал

#### А5. Самый низкий от поверхности Земли слой атмосферы – это:

- 1) Тропосфера;      2) Стратосфера;  
3) Ионосфера.      4) Верхние слои

#### А6. Какой буквой на карте (карта 1) обозначен вулкан Килиманджаро?

- 1) А      2) Б      3) В      4) Г

#### А7. Для какого типа климата умеренного климатического пояса характерны самые низкие зимние температуры?

- 1) морского      2) умеренно - континентального  
3) резко - континентального      4) муссонного

#### А8. Какое из перечисленных морских течений действует в Тихом океане?      карта 1

- 1) Гольфстрим      2) Бразильское      3) Гвинейское      4) Куроисио.

#### А9. Какая амплитуда колебаний температур (на рис. 1) более верная?

- 1) 5°      2) 10°      3) 15°      4) 20°

#### А10. Укажите ошибку в сочетании «материк - животное».

- 1) Африка — гепард      2) Австралия — коала  
3) Южная Америка – пума      4) Евразия — скунс

#### А11. В саваннах Африки растут

- 1) сейба, саксаул, гевея      2) зонтичная акация, баобаб, молочай  
3) лиственница, полынь, ковыль      4) эвкалипт, пихта, бамбук

#### А12. Какие координаты имеет самая восточная точка Африки?

- 1) 16° ю.ш.; 3° в.д.      2) 10° с.ш.; 51° в.д.  
3) 51° с.ш.; 11° в.д.      4) 16° с.ш.; 3° з.д.

#### А13. По карте плотности населения определите, какая из названных территорий заселена больше?

- 1) Европа;      2) Южная Америка;  
3) Австралия;      4) север Африки.

#### А14. Укажите самое большое по площади озеро Африки?

- 1) Чад;      2) Ньяса;      3) Виктория      3) Каспийское

#### А15. Определите, водами, каких заливов омывается материк Северная Америка:

- 1) Гудзонов, Мексиканский;      2) Гвинейский, Бенгальский;  
3) Мексиканский, Бискайский      4) Гудзонов, Персидский

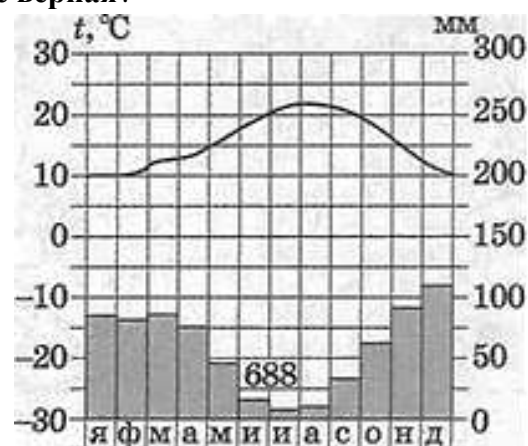
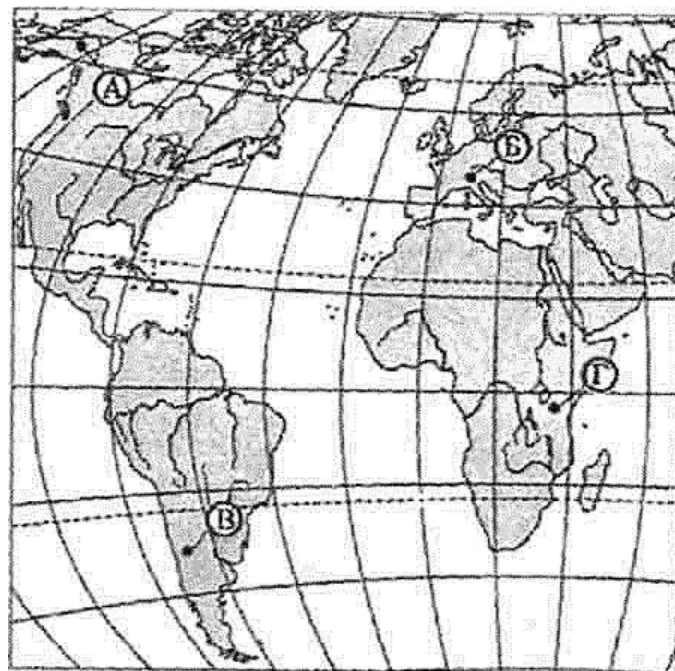


рис.1

Ответом к заданиям части В является набор цифр, которые следует записать в бланк справа от номера соответствующего задания, начиная с первой клеточки. Каждую цифру пишите в отдельной клеточке.

**В1. Установите соответствие между строением земной коры и рельефом.**

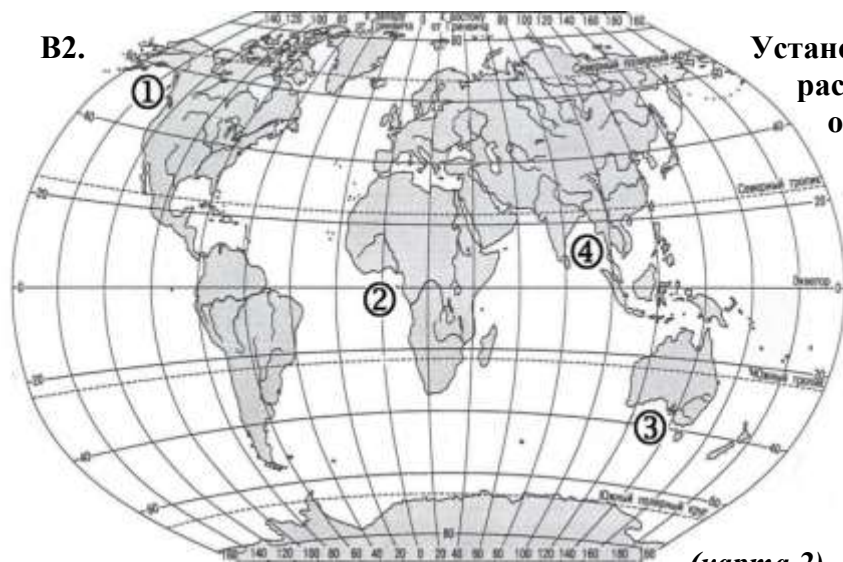
**ГОРЫ**

- 1) Гималаи
- 2) Кордильеры
- 3) Капские
- 4) Аппалачи

**ВОЗРАСТ СКЛАДЧАТОСТИ**

- A. Мезозойский
- B. Кайнозойский
- C. Герцинский
- D. Байкальский

**В2.**



(карта 2)

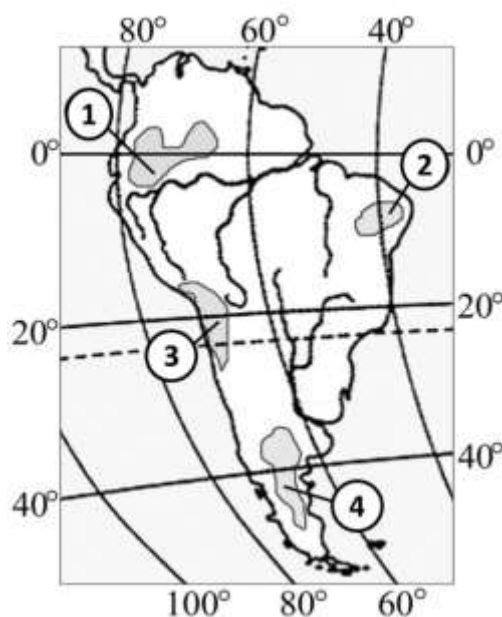
Установите соответствие между заливом и его расположением на карте (карта 2), обозначенным цифрой.

**ЗАЛИВ**

- A) Гвинейский
- B) Бенгальский
- C) Аляска
- D) Большой Австралийский залив

Запишите в таблицу цифры, соответствующие выбранным ответам.

**В3. С помощью карты (рис.2) сравните среднегодовое количество осадков в точках, обозначенных на карте цифрами 1, 2, 3, 4. Расположите эти точки в порядке увеличения количества осадков, выпадающих в них. Запишите в таблицу получившуюся последовательность цифр.**



**Часть С**

**Определите страну по её краткому описанию**

(рис.2)

1. Территория этой американской страны вытянута в меридиональном направлении более чем на 3,7 тыс. км и поэтому расположена в трех климатических поясах: тропическом, субтропическом и умеренном. Горы на территории этой страны местные жители называют «Медными», при этом в столице проживает треть населения страны. На мировом рынке выступает как крупный поставщик медных руд, продовольствия и сельскохозяйственного сырья.

**Определите, о какой природной зоне говорится:**

2. «Характерны красно-жёлтые ферраллитные почвы. Всегда жарко, а дожди идут только летом. Преобладает травянистая растительность с кустами зонтичной акации. Характерные представители животного мира: гепарды, зебры, носороги, слоны».

<i>Часть А</i>														
A 1	A 2	A 3	A 4	A 5	A 6	A 7	A 8	A 9	A 10	A 11	A 12	A 13	A 14	A 15
2	4	2	3	1	4	2	4	4	2	2	1	2	2	1
<i>Часть В</i>														
	A	B	C	D		A	B	C	D					
B1	3	2	4	1	B2	6	8	1	3	B3	1	3	5	
<i>Часть С</i>														
C1	Египет													
C2	Тундра													
<i>Для исправления ошибочных ответов</i>														
A		A		A		рядом с буквой пишем номер исправляемого ответа и в соседние клетки								
A		A		A		вписываем правильный ответ								
B						B								

**Ключ ответов**    Фамилия, имя \_\_\_\_\_ класс \_\_\_\_\_ № варианта **2**

<i>Часть А</i>														
A 1	A 2	A 3	A 4	A 5	A 6	A 7	A 8	A 9	A 10	A 11	A 12	A 13	A 14	A 15
3	2	2	1	1	4	3	4	3	4	2	2	1	3	1
<i>Часть В</i>														
	A	B	C	D		A	B	C	D					
B1	2	1	4	3	B2	1	4	1	3	B3	3	4	2	1
<i>Часть С</i>														
C1	Чили													
C2	Саванны													
<i>Для исправления ошибочных ответов</i>														
A		A		A		рядом с буквой пишем номер исправляемого ответа и в соседние клетки								
A		A		A		вписываем правильный ответ								
B						B								

Бланк ответов    Фамилия, имя \_\_\_\_\_ класс \_\_\_\_\_ № варианта \_\_\_\_\_

